

一 次の文章を読み、各問いに答えなさい。

この部分については
著作権により公表できません。

(内田樹『内田樹による内田樹』による 出題のため一部改編)

- *ロジック …… 議論の筋道
- *観念 …… 意識内容
- *コンテンツ …… 中身
- *母語 …… 幼いときに自然に習得する言語
- *概念 …… 意味内容
- *自我 …… 自分自身に対する意識
- *音韻 …… 言葉の音と響き
- *照準 …… ねらいを定めること
- *一義性 …… 意味が一種類であるさま
- *副次的 …… 主となるものに対して付属したもの

問一 ———— 線部④、⑤のひらがなを漢字に直して書きなさい。

問二 ———— 線部⑥の「短期間」と同じ熟語の構成であるものを、次のア～エから一つ選び、その記号を書きなさい。

- ア 銀河系
- イ 高性能
- ウ 運動場
- エ 衣食住

問三 [I]には、同じ接続する語句があてはまる。適切なものを、次のア～エから一つ選び、その記号を書きなさい。

- ア でも
- イ ゆえに
- ウ そして
- エ さらに

問四 ———— 線部①「コミュニケーション」とありますが、筆者はコミュニケーション能力をどのような力だと考えていますか。三十六字でぬき出して書きなさい。

問五 ———— 線部②「コンテンツが理解できなくてもコミュニケーションは成立します」とありますが、コミュニケーションが成立するために何が必要だと筆者は述べていますか。『この「メッセージ」の』に続くよう、本文中の言葉をもちいて、十五～二十字で書きなさい。句読点(。、)、(や)、「」()などの記号は、それぞれ字数に数えます。

この「メッセージ」の

問六 本文からは次の一文がぬけています。この文があてはまるところを本文中の「あ」「え」の中から選び、その記号を書きなさい。

そこかしこコミュニケーションは始まらないし、主体も立ち上がらない。

問七 筆者の考えとして最も適切なものを、次のア～エの中から一つ選び、その記号を書きなさい。

- ア コミュニケーションは、お互いに理解し合える言語とロジックがあるからこそ、考えや気持ちを通じ合い、成立するものである。
- イ コミュニケーションは、自分に向けられた好意に対して、自分の感情を的確に表現し、相手に伝えることである。
- ウ コミュニケーションにおいて、「自我」という概念の生成の基本となるのは、親の言葉の「コンテンツ」を理解することである。
- エ コミュニケーションにおいて、「相手の言っていることがよくわかる」、「話が聞き取りやすい」、「ロジックを迫れる」などは副次的なものである。

二 選挙に関心をもったはじめさんとさくらさんは、選挙に関する資料を作成しています。各問いに答えなさい。

【資料1】

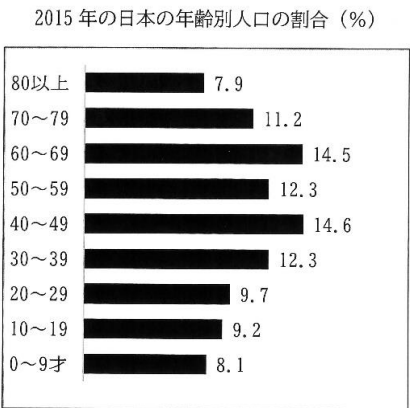
選挙法公布年	選挙権資格	人口比率
1889 (明治22)	直接国税15円以上を納める満25歳以上の男子	1.1%
1900 (明治33)	直接国税10円以上を納める満25歳以上の(A)	2.2%
1919 (大正8)	直接国税3円以上を納める満25歳以上の(B)	5.5%
1925 (大正14)	満25歳以上の(C)	20.1%
1945 (昭和20)	満20歳以上の(D)	51.2%
2015 (平成27)	満18歳以上の男女	(①)%

問一 資料1は、選挙権資格の移り変わりを表にしたものです。資料1の空らんA～Dのうち、「男女」の語が入るものを全て選び、その記号を書きなさい。

- ア 65.4
- イ 73.5
- ウ 84.5
- エ 92.1

問二 資料2は、2015年の日本の年齢別人口の割合を示したものです。資料1の空らん①にあてはまる数を、資料2のグラフを参考に、次のア～エから一つ選び、その記号を書きなさい。

【資料2】



(総務省統計局の資料より作成)

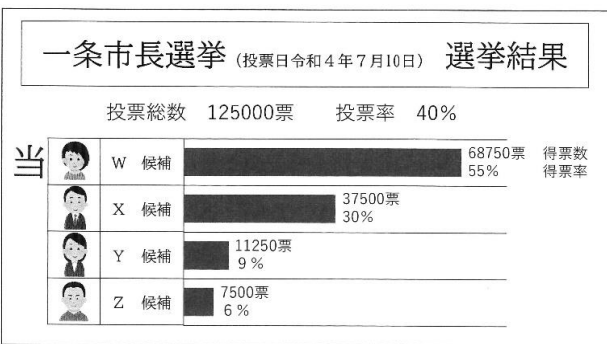
問三 はじめさんは、資料1と学校で学んだ歴史のことからを結び付けてまとめようと考えています。1889年から1945年の間のできごとである次のア～エを、起こった年代の古い順に並べかえ記号で書きなさい。

- ア ヨーロッパで第一次世界大戦が起こると、日本もこの戦争に加わり、戦勝国の一つとなった。
- イ 日清戦争に勝利した日本は、清から賠償金をとり、台湾などを日本の植民地にした。
- ウ 日本が降伏し、アジア、太平洋の各地を戦場とした太平洋戦争が終わった。
- エ 天皇が国民にあたえるという形で、大日本帝国憲法が發布された。

問四 次の会話文は、二人が住んでいる市で市長選挙が行われた後のものです。また資料3は、その選挙の結果がまとめられたものです。文中の空らん②、③にあてはまる数を書きなさい。

さくら 私は、先日の一条市長選挙の結果を見て気になることがありました。資料3を見てください。

【資料3】



はじめ W候補が、過半数の55%の票を獲得して当選したのですね。

さくら そうです。しかし、一条市の有権者は(②)人いるので、そのうちの68750票となると、(③)%の票しか獲得していません。

はじめ 今回の選挙では、④「自然災害に備えるための市の取り組みについても議論が行われていましたね。選挙は、私たちの生活に深く関係しています。選挙権を得たら必ず投票に行こうと思います。

問五 会話文中に「線部④「自然災害に備える」とありますが、自然災害や、自然災害に備えるための取り組みについての説明として正しいものを、次のア～エから二つ選び、その記号を書きなさい。

- ア 津波災害は、強い台風によって海水が大きく動くことよって起こる。
- イ 緊急地震速報は、大きな地震が発生したときに、強いゆれが予想されることをテレビやラジオ、スマートフォンなどで伝えられる。
- ウ 気象庁は、火山災害に備え全国の火山を観測しているが、日本には現在活動している火山はない。
- エ ハザードマップには、自然災害による被害が予想される範囲や避難場所、避難経路などが示されている。
- オ 市町村が、防災のための法律を制定し、その法律にもとづいて、避難所や防災センターの建設などが計画的に進められる。

三 次の文章を読み、各問いに答えなさい。

この部分については
著作権により公表できません。

(千田稔『地球儀の社会史—愛しくも、物愛げな球体』による
出題のため一部改編)

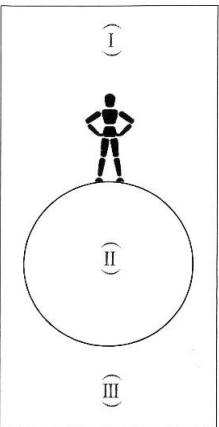
*朱子学者 …… 儒学じゆがくの一種である朱子学の研究者
*南蛮寺 …… 日本に建てられたキリスト教の教会堂
*攘夷論 …… 江戸時代末期にあった、外国勢力の排除をと
えた主張
*書翰 …… 手紙

問一 — 線部①「球体説」を最初に日本に説いたのは誰だと筆者は述べていますか。その人物名を本文中からぬき出して書きなさい。

問二 — 線部②「織田信長」とありますが、織田信長は安土の城下町で楽市・楽座をおこない、多くの商人が集まりました。商人が城下町に来た理由として最も適切なものを、次のア～エから一つ選び、その記号を書きなさい。

- ア だれでも商売ができるので、今までのようにもうけられなくなり困ると考えたから。
- イ 市場で商売をするための税を納めなくてよくなるので、負担が軽くなって助かると考えたから。
- ウ 多額の借金を返済しなくてよくなるので、これからの生活が楽になって安心だと考えたから。
- エ 人口が増えて活気が良くなるので、自分の領地を拡大することができてうれしいと考えたから。

問三 — 線部③「地球儀を挟んで論争する」とありますが、次の図はハビアン主張を図式化したものです。Ⅰ～Ⅲにあてはまる語の組み合わせとして適切なものを、次のア～カから一つ選び、その記号を書きなさい。



- ア (Ⅰ) 地 (Ⅱ) 天 (Ⅲ) 天
- イ (Ⅰ) 地 (Ⅱ) 天 (Ⅲ) 地
- ウ (Ⅰ) 地 (Ⅱ) 地 (Ⅲ) 天
- エ (Ⅰ) 天 (Ⅱ) 地 (Ⅲ) 地
- オ (Ⅰ) 天 (Ⅱ) 地 (Ⅲ) 天
- カ (Ⅰ) 天 (Ⅱ) 天 (Ⅲ) 地

問四 — 線部④「地球の丸いこと」とありますが、地球の模型である地球儀についての説明として誤っているものを、次のア～エから一つ選び、その記号を書きなさい。

- ア 地球儀は、地球の形をそのまま小さくしているので、陸地や海の形を正しく表すことができる。
- イ 地球儀にある経度と緯度をもちいて、地球上での位置を正確に表すことができる。
- ウ 地球儀は、立体的な形をしているので、世界全体を一度にみることができる。
- エ 地球儀の縮尺がわかると、地球儀の二点間にひもをはり、そのきよりははかることで、実際のきよりを計算することができる。

問五 — 線部⑤のように「 がいかに であつたとしても、 ではなかった。」という題名で、次の三つの条件に従って作文しなさい。

条件一 にそれぞれ言葉をあてはめ、作文の内容をあらわす題名を書きなさい。

条件二 原稿用紙の使い方に従って、百二十字以上百五十字以内で、二段落構成で書きなさい。ただし、原稿用紙内に題名と名前は書かないこと。

条件三 第一段落には、題名に関するあなたの経験を書き、第二段落には、第一段落に書いた内容をふまえて、あなたが考えたことを書きなさい。